

**Федеральное государственное бюджетное образовательное учреждение высшего образования
Российская академия народного хозяйства и государственной службы при Президенте Российской Федерации**

**Олимпиада школьников РАНХиГС по Финансовой грамотности
2025 – 2026 учебный год
6 -7 класс
Отборочный этап**

Вариант 1

ЗАДАНИЕ 1

Ознакомьтесь с ситуацией.

Кириллу Светикову весной исполнилось 14 лет. С согласия родителей он устроился на работу курьером на время летних каникул. Это его первая официальная работа.

Кирилл (с согласия родителей) открыл виртуальную банковскую карту, на которую поступила первая зарплата. В договоре при трудоустройстве была прописана сумма в размере 15 000 руб. до налогового вычета. Кирилл расстроен – он получил меньше. Сколько рублей поступило на карту Кирилла?

Впишите число без пробелов: _____ руб.

Ответ: 13050

Критерии оценки:

0 баллов	Указан неверный ответ
4 балла	Указан верный ответ

ЗАДАНИЕ 2

Ознакомьтесь с ситуацией.

Мама попросила Артура купить продукты в магазине. Она дала ему наличные деньги - 3000 руб. В магазине Артур увидел, что можно получить скидку 3%, если расплатиться безналичным способом. В банкомате он положил на свою карту деньги и на кассе приложил ее к терминалу оплаты.

Как называется такой называется такой способ оплаты товаров/услуг?

- 1) Биометрия.
- 2) Наличный расчет.
- 3) Эквайринг.
- 4) СБП (система быстрых платежей).
- 5) Безналичный платеж в мобильном приложении банка.

Выберите один верный ответ

Ответ: 3

Критерии оценки:

0 баллов	Указан неверный ответ
5 баллов	Указан верный ответ

ЗАДАНИЕ 3

Ознакомьтесь с ситуацией.

Анвар переходит учиться в 7 класс и у него появится новый предмет - «Информатика». Он уже ходит на курсы робототехники и теперь хочет освоить программирование. Анвар решил купить ноутбук на накопленные деньги. Цены на эту категорию товара сильно варьируют.

Какими принципами должен руководствоваться мальчик, чтобы сделать грамотную покупку?

- 1) Популярность бренда, красота рекламы.
- 2) Соотношение цена-качество.
- 3) Спонтанность и импульсивность желания купить.
- 4) Надёжность, долговечность товара.
- 5) Наличие скидки и/или кэшбэка.
- 6) Мнение друзей о товаре.

Выберите несколько верных ответов.

Ответ: 2 4 5

Критерии оценки:

0 баллов	Указан неверный ответ
4 балла	Указан верный ответ

ЗАДАНИЕ 4

Ознакомьтесь с ситуацией.

В семье Магомаевых уже несколько месяцев ведется семейный бюджет. Папа вовлекает в его обсуждение и составление дочь Марину. В этот раз он написал все доходы и расходы семьи единым списком и попросил Марину найти необязательные расходы, так как по его предварительным расчетам бюджет получается дефицитным. А этого, по мнению папы, быть не должно.

Выделите четыре позиции, которые необходимо убрать Марине.

- 1) Зарплата мамы
- 2) Базовые продукты питания
- 3) Лотерейные билеты
- 4) Корм и прививки для кота
- 5) Процент по годовому вкладу
- 6) Прибыль от фирмы папы
- 7) Графический планшет для старшего брата – студента факультета дизайна
- 8) Третий летний костюм для собаки
- 9) Платеж по ипотеке
- 10) Набор специальной посуды для приготовления пиццы
- 11) Транспортный налог

- 12) Счет за жилищно-коммунальные услуги
- 13) Лекарства и витамины
- 14) Годовая подписка на канал «Готовим каждый день»

Ответ: 3 8 10 14





Критерии оценки:

0 баллов	Указан неверный ответ
4 балла	Указан верный ответ

ЗАДАНИЕ 5

Ознакомьтесь с ситуацией.

Семиклассник Иван уже пять лет изучает китайский язык. В этом году он стал победителем конкурса «Древний Китай», и ему предстоит отправиться в Пекин на семь полных дней. Все расходы на поездку оплачиваются организатором. Иван хочет взять с собой наличные юани на покупку сувениров и разных мелочей. Иван с папой отправился в банк «Дружба», где на табло была размещена следующая информация:

Валюта	Купить	Продать
 1 AED Дирхам ОАЭ	▲ 23,51 ₽	▲ 22,21 ₽
 1 CNY Китайский юань	▲ 11,81 ₽	▲ 11,46 ₽
 100 KZT Казахстанский тенге	16,01 ₽	14,88 ₽
 1 USD Доллар США	▲ 85,00 ₽	▲ 79,10 ₽

Какую сумму в юанях получит папа Ивана, если он купит юаней из расчета по 1200 руб. на один день поездки?

Впишите целое число без пробелов, которое у вас получилось.

Ответ: 711

Критерии оценки:

0 баллов	Указан неверный ответ
5 баллов	Указан верный ответ

ЗАДАНИЕ 6

Ознакомьтесь с ситуацией.

Василий оформил виртуальную банковскую карту. С ее помощью он купил новую видеоигру. Через неделю на электронную почту, указанную при регистрации, пришло письмо от имени службы поддержки игры. В письме было написано, что с данного аккаунта замечена подозрительная активность и для защиты аккаунта и привязанной к нему банковской карты необходимо срочно перейти по ссылке и подтвердить данные своей карты: номер, срок действия, CVC-код и имя владельца.

Какие действия Василия будут грамотными в данной ситуации?

- 1) Немедленно перейти по ссылке из письма и ввести данные карты, чтобы обезопасить свои деньги.
- 2) Не переходить по ссылке в письме и не вводить данные своей банковской карты.
- 3) Зайти на официальный сайт игры и через него обратиться в службу поддержки, чтобы уточнить о факте подозрительной активности в отношении аккаунта.
- 4) Сразу позвонить в банк, который выпустил его карту, по официальному номеру с обратной стороны карты, сообщить о возможной мошеннической попытке и, при необходимости, заблокировать карту для перевыпуска.
- 5) Удалить письмо, ничего не предпринимая, так как, скорее всего это шутка.
- 6) Связаться с родителями, показать им это письмо и попросить помощи и совета.

Выберите несколько верных ответов.

Ответ: 2 3 4 6

Критерии оценки:

0 баллов	Указан неверный ответ
4 балла	Указан верный ответ

ЗАДАНИЕ 7

Ознакомьтесь с ситуацией.

На уроке по финансовой грамотности Ульяна и Марина узнали о функциях денег. Им предстояло придумать задание по этой теме для своих одноклассников. Помогите им выполнить задание Ульяны и Марины.

Рассмотрите представленные в левом столбце таблицы жизненные ситуации, соотнесите их с функциями денег в правом столбце.

Жизненная ситуация	Функция денег
1. Марина мечтает купить игровой ноутбук. Ежемесячно она откладывает по 2000 руб.	А) Деньги как универсальное средство платежа.
2. Ульяна ежедневно ходит в магазин за продуктами. По списку она покупает за наличные деньги всё необходимое.	Б) Деньги как мера для определения стоимости.
3. Марина любит книги в стиле аниме. Чтобы не переплачивать, она всегда сравнивает цены в нескольких онлайн и офлайн магазинах.	В) Деньги как средство обмена.

4. Марине нравился калькулятор Ульяны. А Ульяна хотела пенал Марины. Но калькулятор стоил на 600 руб. дороже. Поэтому Марина доплатила Ульяне недостающую сумму.	Г) Деньги как средство накопления.
--	------------------------------------

Ответ:

1	2	3	4
Г	А	Б	В

Критерии оценки:

0 баллов	Указан неверный ответ
4 балла	Указан верный ответ

ЗАДАНИЕ 8

Ознакомьтесь с ситуацией.

В конце 2024 года семья Ильи решила, что следующий летний отдых проведут в г. Сочи. Предварительная стоимость путевки на троих - 257 000 руб. В бюджете на отдых уже отложено 230 000 руб. Илья понимал, что семье не хватит этих денег. И если не экономить, то поездка в Сочи может не состояться. Илья определил несколько вариантов решения проблемы:

1) Инвестирование средств в компанию, занимающуюся продажей продуктов питания. Компания обещает выплачивать фиксированный доход каждые полгода в размере 23% от начальной суммы инвестиций. Срок инвестирования от 2 лет.

2) Размещение на вкладе накопленных денег в банке «Надежный» (процентная ставка - 24% годовых, начисление каждые полгода на первоначальную сумму вклада, возможно досрочное снятие).

3) Формирование накоплений самостоятельно, без использования финансовых инструментов. В этом случае семья откладывает 2 000 руб. в месяц.

4) Вложение в семейный кооператив родителей, который предлагает выплату бонусов на размещенные средства каждые полгода в размере 25%. Кооператив работает на условиях не менее трехлетнего срока вклада без возможности предварительного снятия.

В результате их сравнения, Илья предложил родителям тот, который позволил всей семье отправиться на запланированный отдых без экономии и изменений привычных трат.

Какой вариант позволил это сделать? Выберите один верный ответ.

Ответ: 2

Критерии оценки:

0 баллов	Указан неверный ответ
4 балла	Указан верный ответ

ЗАДАНИЕ 9

Ознакомьтесь с ситуацией.

Семья Ахмедовых хочет приобрести плазменный телевизор за 66 000 руб. Это не обязательное, но желаемое приобретение, все члены семьи любят смотреть кино в хорошем

качестве. На семейном совете сын Умар предложил каждому члену семьи отказаться от одной **необязательной** траты.

Рассмотрите приведенный ниже перечень личных расходов семьи Ахмедовых:

Члены семьи Ахмедовых	Ежемесячные расходы	Статья расходов, руб.
Папа Аскерхан	Ежемесячный взнос по кредиту	8000
	Бензин для автомобиля	6000
	Оплата продуктов	30000
	Ежемесячная встреча с друзьями в спорклубе	8000
	Помощь родителям	10000
Мама Амина	Платная подписка на онлайн-кинотеатр с фильмами и сериалами	4500
	Корм для домашних питомцев	5000
	Лекарства	10000
	Покупка косметики	3000
Сын Умар	Оплата спортивной секции	5000
	Походы с друзьями в кафе	2000
	Оплата компьютерной игры	3000
	Оплата онлайн курсов IT-технологий	4000
Дочь Марьям	Маникюр и педикюр	4500
	Походы в кафе с друзьями	6500
	Покупка косметики	2000
	Оплата репетитора иностранного языка	8000

Рассчитайте, через сколько месяцев Ахмедовы смогут купить плазменный телевизор, если каждый из членов семьи откажется только от одной **необязательной**, но самой большой по сумме траты.

Впишите число: _____ мес.

Ответ: 3

Критерии оценки:

0 баллов	Указан неверный ответ
6 баллов	Указан верный ответ

ЗАДАНИЕ 10

Ознакомьтесь с ситуацией.

Три друга Артем, Вика и Максим учатся в 8 классе школы Санкт-Петербурга. Они решили начать свое дело – печь и продавать пряники со школьной символикой перед праздниками. Ребята составили бизнес-план, провели финансовые расчеты.

Рассмотрите представленные в левом столбце вопросы, которые встали перед ребятами при составлении бизнес-плана, соотнесите их с ответами, представленными справа.

Вопрос бизнес-плана	Ответ
1 Друзья подсчитали, что на закупку продуктов для одной партии из 20 пряников им нужно 200 руб. Упаковка для одного пряника стоит 5 руб. Какова себестоимость одного пряника, руб.?	А) 5
2 Ребята планируют продавать пряники по 40 руб. за штуку. Сколько прибыли получают друзья с одной партии из 20 пряников, если продадут все, руб.?	Б) 81
3 Артем предложил купить профессиональную формочку за 200 руб., которая позволит уменьшить расход теста и снизить стоимость продуктов на 40 руб. на партию. Сколько партий пряников нужно сделать, чтобы окупить покупку этой формочки?	В) 500
4 Вика считает, что нужно откладывать 15% от прибыли на будущие расходы. Сколько руб. составят эти отчисления с продажи одной партии пряников (после покупки формочки)?	Г) 15

Ответ:

1	2	3	4
Г	В	А	Б

Критерии оценки:

0 баллов	Указан неверный ответ
6 баллов	Указан верный ответ

ЗАДАНИЕ 11

Ознакомьтесь с ситуацией.

Бабушке Арсения навязали страховку, когда она брала кредит на покупку стиральной машины. Арсений понимал, что при этом было нарушено право потребителя финансовых услуг – «право на выбор финансовой услуги». В школе мальчик изучал алгоритм защиты прав потребителя. Он помнил, что надо делать, но забыл, в какой последовательности следует совершать действия по отстаиванию своих прав. Помогите Арсению расставить шаги алгоритма защиты прав потребителя в нужной последовательности.

Укажите правильную последовательность действий Арсения и его бабушки при отстаивании прав потребителя.

Расположите действия Арсения в правильной последовательности

- 1) Если ответ на письменную претензию отрицательный, обратиться за консультацией в одну из организаций, помогающих защищать права (Роспотребнадзор, Банк России, Финансовый уполномоченный и др.). Получить бесплатную консультацию.
- 2) На сайте Роспотребнадзора найти шаблоны письменных претензий при нарушении прав потребителя.
- 3) С помощью консультантов организаций, помогающих защищать права потребителя составить исковое заявление в суд.
- 4) Составить письменную претензию и передать ее в банк. Получить официальный ответ от организации.
- 5) Отстаивать свои права в суде (самостоятельно или с помощью юристов).

Ответ: 2 4 1 3 5

Критерии оценки:

0 баллов	Указан неверный ответ
4 балла	Указан верный ответ

ЗАДАНИЕ 12**Ознакомьтесь с ситуацией.**

У семьи Морозовых в доме установлен цифровой счётчик электроэнергии. Ежемесячно семья использует 350 кВт·ч. Из них 230 кВт·ч - в дневное время, 120 кВт·ч - в ночное время. Установленный дневной тариф оплаты за электроэнергию – 6 руб. за 1 кВт·ч, ночной тариф – 3 руб. за 1 кВт·ч.

Семья установила умную розетку, которая помогает экономить деньги. С помощью умной розетки удалось сократить расход электроэнергии ночью на 30%, а днём – на 10%.

Время суток	Потребление электроэнергии, кВт ч	Тариф, руб.	Экономия после установки умной розетки, %
День	230	6	10
Ночь	120	3	30

Сколько рублей семья заплатит за электроэнергию за месяц после установки умной розеткой при сохранении такого же потребления?

Впишите число без пробелов: _____ руб.

Ответ: 1494

Критерии оценки:

0 баллов	Указан неверный ответ
6 баллов	Указан верный ответ

ЗАДАНИЕ 13**Ознакомьтесь с ситуацией.**

Петя составил таблицу сервисов, которыми пользуется его семья. В таблице указано, к каким сервисам привязаны одинаковые шаблоны паролей и какой ежемесячный платёж по каждому сервису.

№	Сервис	Категория	Привязанный email	Шаблон пароля	Сумма на счете, руб.
1	Интернет-магазин	Покупки	mom_personal@mail.ru	В	2000
2	Доставка еды	Еда	family_food@mail.ru	А	5000
3	Такси	Оплата проезда	dad_personal@ya.ru	С	0
4	Streaming	Развлечения	family_stream@ya.ru	А	1000

Сколько рублей потеряет семья, если пароль шаблона «А» станет известен мошенникам?

Впишите число без пробелов: _____ руб.

Ответ: 6000

Критерии оценки:

0 баллов	Указан неверный ответ
5 баллов	Указан верный ответ

ЗАДАНИЕ 14

Ознакомьтесь с ситуацией.

Брат и сестра Петя и Катя Смирновы, закончили 6 класс «на отлично» и обратились к родителям с просьбой купить им велосипеды. Родители ответили, что готовы приобрести велосипеды, но, позже. В настоящий момент они не располагают достаточной суммой для их покупки и им пришлось бы воспользоваться займом или кредитом. Ребята слышали такие понятия, как «кредит», «рассрочка» и «микрозаём», но не до конца понимают их. Им важно разобраться, что можно использовать для покупки желаемого, а что может привести к большому долгу.

Рассмотрите представленные в левом столбце таблицы понятия, связанные с займами и кредитами, соотнесите их с жизненными ситуациями, представленными справа.

Понятие	Жизненная ситуация
1. Кредит	А) Покупка велосипедов с возможностью оплаты их стоимости частями в течение оговоренного в договоре срока.
2. Процентная ставка	Б) Деньги, взятые в долг у бабушки и дедушки на покупку велосипедов. Не предполагают уплаты процентов.
3. Рассрочка	В) Деньги, которые родители Пети и Кати взяли в долг у банка на конкретную цель на условиях возврата с уплатой процентов.
4. Микрозайм	Г) Стоимость кредита родителей Пети и Кати, выраженная в процентах годовых. Показывает, сколько они переплачивают банку за пользование деньгами.
5. Дружеский заём	Д) Денежный заём, который родители Пети и Кати могут взять на короткий срок в микрофинансовой организации, под высокие проценты, с большими рисками.

Ответ:

1	2	3	4	5
В	Г	А	Д	Б

Критерии оценки:

0 баллов	Указан неверный ответ
4 балла	Указан верный ответ

ЗАДАНИЕ 15

Ознакомьтесь с ситуацией.

Братья Илья и Андрей попросили родителей купить им два годовых абонемента в фитнес-клуб (цена - 30 000 руб. - каждый).

Финансовые условия семьи Ивановых следующие:

- ежемесячный доход: 100 000 руб.;
- обязательные расходы (ЖКХ, еда, транспорт и др.): 70 000 руб.;
- накоплений нет
- желательные расходы (на развлечения): 20 000 руб.
- непредвиденные расходы: 10 000 руб.

Родители понимают важность занятия физкультурой и решают накопить на абонементы для детей. Какой из вариантов накопления будет наиболее грамотным с учетом того, что все члены семьи готовы только на половину уменьшить желательные расходы?

- 1) Откладывать три месяца по **максимуму** - по 20000 руб. ежемесячно с целью накопить как можно быстрее.
- 2) Откладывать **шесть месяцев комфортную** сумму – по 10 000 руб. ежемесячно.
- 3) Не откладывать деньги целенаправленно, а в конце месяца посмотреть, что осталось от свободных денег, и отложить эту сумму сбережений (в среднем это получается около 5 000 руб.).
- 4) Взять деньги в долг у знакомых, чтобы купить абонемент сразу, а потом отдавать понемногу.

Выберите один верный ответ.

Ответ: 2

Критерии оценки:

0 баллов	Указан неверный ответ
6 баллов	Указан верный ответ

ЗАДАНИЕ 16

Ознакомьтесь с ситуацией.

Арина – ученица 7 класса. К началу учебного года ей нужно купить канцелярские товары. Список содержит следующие позиции: тетради в клетку – 10 шт.; тетради в линейку – 10 шт.; ручки шариковые – 4 шт.; карандаши простые – 4 шт.; ластик – 2 шт.; обложки для учебников – 10 шт.; набор цветных карандашей – 1 шт.; альбом – 1 шт. Кроме того, у Арины есть бонусная карта магазина, на которой лежит 500 бонусов.

Мама предложила Арине сделать выбор самостоятельно, при этом попросила экономить. В магазине Арине предложили следующие позиции:

№	Товар	Стоимость за ед., руб.
1	тетрадь в клетку	20
2	комплект тетрадей в клетку (5 шт.)	90
3	тетрадь в линейку	20
4	комплект тетрадей в линейку (5 шт.)	80
5	ручка шариковая	100
6	карандаш простой	60
7	набор простых карандашей (10 шт.)	400
8	ластик	30
9	набор ластиков (3 шт.)	60
10	обложка для учебников	40
11	набор обложек для учебников (10 шт.)	300
12	набор цветных карандашей	400
13	альбом	260

В магазине действуют две акции (скидки не суммируются):

- 1) Скидка 10% на итоговую сумму в чеке, превышающую 3000 руб.
- 2) Частичная оплата покупки бонусами (5% от итоговой суммы в чеке).

Выберите наиболее выгодный вариант покупки каждого канцелярского товара, определите какую акцию лучше применить и рассчитайте общую сумму покупки.

Впишите число без пробелов, отражающее итоговую сумму в рублях, которую заплатит Арина в магазине: _____ руб.

Ответ: 1900

Критерии оценки:

0 баллов	Указан неверный ответ
6 баллов	Указан верный ответ

ЗАДАНИЕ 17

Ознакомьтесь с ситуацией.

Когда София возвращалась из школы, ей поступил звонок с неизвестного номера. Строгий мужской голос представился полковником службы безопасности и сказал: «С вашей карты был сделан перевод одной из террористических группировок. Это уголовно наказуемая деятельность! Если вы невиновны, нужно срочно перевести остаток денег на безопасный счет». София догадалась, что это мошенники и прекратила разговор.

Как называется вид мошенничества, с которым столкнулась София?

- 1) Вишинг
- 2) Фишинг
- 3) Финансовая пирамида
- 4) Скимминг

Выберите один верный ответ.

Ответ: 1

Критерии оценки:

0 баллов	Указан неверный ответ
4 балла	Указан верный ответ

ЗАДАНИЕ 18

Прочитайте текст.

Бильбо Бэггинс, главный герой повести Джона Рональда Руэла Толкина «Хоббит, или Туда и обратно», совершает путешествие к Одинокой горе и помогает гномам обрести Дом. При этом он меняет и их жизнь, и свою собственную.

Выберите прилагательные, которые лучше всего характеризуют потребительское поведение Бильбо в начале повествования.

- 1) Импульсивное
- 2) Коллективистское

- 3) Рациональное
- 4) Эгоистичное
- 5) Эпатажное

Выберите два верных ответа

Ответ: 3 4

Критерии оценки:

0 баллов	Указан неверный ответ
6 баллов	Указан верный ответ

ЗАДАНИЕ 19

Укажите историческую последовательность появления перечисленных ниже денег:

- 1) медная копейка
- 2) сребреник
- 3) цифровой рубль
- 4) золотой империал
- 5) бумажный червонец

Ответ: 2 1 4 5 3

Критерии оценки:

0 баллов	Указан неверный ответ
7 баллов	Указан верный ответ

ЗАДАНИЕ 20

Ознакомьтесь с ситуацией.

Тимур учится в 6 классе и ходит в спортивную секцию по настольному теннису. Перед началом спортивного сезона ему необходима новая теннисная ракетка, чехол для нее и набор из 20 мячей. Папа дал Тимуру 12 000 руб. на покупку, разрешив сдачу оставить себе. Тимур сравнил предложения нескольких онлайн и офлайн магазинов, чтобы выбрать наиболее выгодное.

Рассмотрите представленные в левом столбце предложения разных магазинов, соотнесите их с итоговой стоимостью покупки.

Жизненная ситуация	Итоговая стоимость покупки
1. Онлайн-магазин «Спортик»: комплект ракетка и чехол - 13500 руб., набор мячей 20 шт. – 600 руб. Если оплатить онлайн, а не при получении, то будет скидка - 12%.	А) 11700 руб.
2. Офлайн магазин «СпортЛайф»: ракетка – 11000 руб.; чехол – 800 руб., набор мячей 20 шт. – 400 руб. У Тимура есть бонусная карта этого магазина с 500 бонусных руб., которые можно списать, уменьшив общую стоимость покупки, которые можно использовать при оплате.	Б) 11400 руб.

3. Покупка товаров в магазине маркетплейса: набор (ракетка, чехол и мячи 10 шт.) стоит 10 900 руб. + 10 мячей – 200 руб. Доставка платная – 300 руб.	В) 11600 руб.
4. Заказ через тренера из оптового магазина: ракетка в чехле – 12500 руб., набор из 20 мячей – 800 руб. Тренер сможет сделать заказ на нескольких спортсменов и ему сделают скидку 20% от на всю покупку.	Г) 10640 руб.

Ответ:

1	2	3	4
В	А	Б	Г

Критерии оценки:

0 баллов	Указан неверный ответ
6 баллов	Указан верный ответ

**Федеральное государственное бюджетное образовательное учреждение высшего образования
Российская академия народного хозяйства и государственной службы при Президенте
Российской Федерации**

**Олимпиада школьников РАНХиГС по Финансовой грамотности
2025 – 2026 учебный год
6 -7 класс
Отборочный этап**

Вариант 2

ЗАДАНИЕ 1

Ознакомьтесь с ситуацией.

Алексею Птичкину в январе исполнилось 14 лет. С согласия родителей он устроился помощником администратора в спортивный клуб на время летних каникул. Это его первая официальная работа. Алексей (с согласия родителей) открыл виртуальную банковскую карту, на которую поступила первая заработная плата. В договоре при трудоустройстве была прописана сумма в размере 14 000 руб. до налогового вычета. Алексей расстроен – он получил меньше. Сколько рублей поступило на карту Алексей Птичкин?

Впишите число без пробелов: _____ руб.

Ответ: 12180

Критерии оценки:

0 баллов	Указан неверный ответ
4 балла	Указан верный ответ

ЗАДАНИЕ 2

Ознакомьтесь с ситуацией.

Егору нужно оплатить 4500 руб. за свои курсы английского языка. У него есть квитанция с реквизитами школы иностранных языков, но ему не хочется отвлекаться и выходить из дома, чтобы совершить оплату в банке. В приложении банка на своем телефоне он внес данные (реквизиты и сумму платежа) и осуществил перевод денег.

Как называется такой способ оплаты услуг?

- 1) Биометрия.
- 2) Наличный расчет.
- 3) Эквайринг.
- 4) СБП (система быстрых платежей).
- 5) Безналичный платеж в мобильном приложении банка.

Выберите один верный ответ.

Ответ: 5

Критерии оценки:

0 баллов	Указан неверный ответ
5 баллов	Указан верный ответ

ЗАДАНИЕ 3

Ознакомьтесь с ситуацией.

Давид решил заняться спортом и выбрал для себя секцию настольного тенниса. Для занятий ему необходимо приобрести спортивную форму, кроссовки, профессиональную ракетку и набор мячей. Цены на эти категории товара сильно варьируются. Какими принципами должен руководствоваться мальчик, чтобы сделать грамотную покупку?

- 1) Яркость упаковки, привлекательность рекламы.
- 2) Спонтанность и импульсивность желания купить.
- 3) Экспертное мнение тренера.
- 4) Надежность, профессиональное качество товара.
- 5) Наличие скидки и/или кэшбека.
- 6) Мнение блогера, не занимающегося этим видом спорта.

Выберите несколько верных ответов

Ответ: 3 4 5

Критерии оценки:

0 баллов	Указан неверный ответ
4 баллов	Указан верный ответ

ЗАДАНИЕ 4

Ознакомьтесь с ситуацией.

В семье Галактионовых ведется семейный бюджет. С этого года мама вовлекает в его обсуждение и составление дочь Кристину. Мама написала все доходы и расходы семьи единым списком. Попросила Кристину найти необязательные расходы, которые можно сократить, чтобы уменьшить дефицит семейного бюджета.

Выделите четыре позиции, которые необходимо убрать Кристине.

- 1) Третий летний костюм для кошки Дуси
- 2) Платеж по потребительскому кредиту, который был взят на ремонт квартиры
- 3) Набор посуды для приготовления мяса по-французски в горшочках
- 4) Земельный налог
- 5) Счет за интернет и сотовую связь для семьи
- 6) Лекарства
- 7) Подписка на премиум аккаунт в игре “Марио” для мамы
- 8) Зарплата папы
- 9) Базовые продукты питания
- 10) Лотерейные билеты
- 11) Корм и прививки для собаки
- 12) Прибыль от папиного ИП “Петров И.И.”
- 13) Платеж от сдачи гаража в аренду
- 14) Зимние сапоги для старшей сестры Кристины

Ответ: 1 3 7 10





Критерии оценки:

0 баллов	Указан неверный ответ
4 баллов	Указан верный ответ

ЗАДАНИЕ 5

Ознакомьтесь с ситуацией.

Семиклассница Оксана стала победителем открытой олимпиады по робототехнике. Ее награда – это поездка в ОАЭ (8 дней). Все расходы на поездку оплачиваются организатором. Оксана хочет взять с собой наличные дирхамы на покупку сувениров и разных мелочей. Оксана с мамой отправилась в «Р-банк», где на табло была размещена следующая информация:

Валюта		Купить	Продать
 1 AED Дирхам ОАЭ		▲ 23,51 ₽	▲ 22,21 ₽
 1 CNY Китайский юань		▲ 11,81 ₽	▲ 11,46 ₽
 100 KZT Казахстанский тенге		16,01 ₽	14,88 ₽
 1 USD Доллар США		▲ 85,00 ₽	▲ 79,10 ₽

Какую сумму в дирхамах получит Мама Оксаны, если она хочет купить дирхамов из расчета по 1500 руб. на один день поездки?

Впишите целое число без пробелов, которое у вас получилось.

Ответ: 510

Критерии оценки:

0 баллов	Указан неверный ответ
5 баллов	Указан верный ответ

ЗАДАНИЕ 6

Ознакомьтесь с ситуацией.

Вера оформила виртуальную банковскую карту для оплаты подписки на онлайн-учебник. Спустя несколько дней на электронную почту, указанную при регистрации, пришло письмо от имени службы поддержки онлайн-библиотеки. В письме утверждалось, что с аккаунта зафиксирована подозрительная активность, и для безопасности аккаунта и привязанной карты нужно срочно перейти по ссылке и подтвердить данные карты: номер, срок действия, CVC-код и имя владельца.

Какие действия Веры будут грамотными в данной ситуации?

- 1) Немедленно перейти по ссылке из письма и ввести данные карты, чтобы обезопасить свои деньги.
- 2) Не переходить по ссылке в письме и не вводить данные своей банковской карты.
- 3) Зайти на официальный сайт онлайн-библиотеки и через него обратиться в службу поддержки, чтобы уточнить о факте подозрительной активности в отношении аккаунта.
- 4) Сразу позвонить в банк, который выпустил ее карту, по официальному номеру с обратной стороны карты, сообщить о возможной мошеннической попытке и, при необходимости, заблокировать карту для перевыпуска.

- 5) Удалить письмо, ничего не предпринимая, так как, скорее всего это шутка.
 6) Связаться с родителями, показать им это письмо и попросить помощи и совета.
Выберите несколько верных ответов.

Ответ: 2 3 4 6

Критерии оценки:

0 баллов	Указан неверный ответ
4 баллов	Указан верный ответ

ЗАДАНИЕ 7

Ознакомьтесь с ситуацией.

На уроке по финансовой грамотности Алиса и Полина узнали о функциях денег. Им предстояло придумать задание по этой теме для своих одноклассников. Помогите им выполнить задание Алисы и Полины.

Рассмотрите представленные в левом столбце таблицы жизненные ситуации, соотнесите их с функциями денег в правом столбце.

Жизненная ситуация	Функция денег
1. Алиса ходит на курсы “Юный кондитер” и каждую неделю покупает за наличные деньги все необходимые ингредиенты для будущих кулинарных шедевров.	А) Деньги как универсальное средство платежа.
2. Полина хочет приобрести дорогой набор косметики. В течение трех месяцев она откладывает по 1500 руб.	Б) Деньги как мера для определения стоимости.
3. Алисе нужен новый спортивный костюм. Чтобы не переплачивать, она сравнивает цены в нескольких онлайн и офлайн магазинах.	В) Деньги как средство обмена.
4. Девочки решили обменяться вещами. Но футболка Полины стоила на 500 руб. дешевле блузки Алисы. Поэтому Полина доплатила Алисе недостающую сумму.	Г) Деньги как средство накопления.

Ответ:

1	2	3	4
А	Г	Б	В

Критерии оценки:

0 баллов	Указан неверный ответ
4 балла	Указан верный ответ

ЗАДАНИЕ 8

Ознакомьтесь с ситуацией.

В конце 2024 года семья Алексея решила, что следующий летний отдых проведут в г. Геленджик. Предварительная стоимость путевки на четверых - 300000 руб. В бюджете на отдых уже отложено 280000 руб. Алексей понимал, что семье не хватит этих денег для полной оплаты поездки, и нужно было накопить оставшуюся сумму за 6 месяцев.

Алексей определил несколько вариантов решения проблемы:

- 1) Инвестирование средств в компанию, занимающуюся продажей бытовой техники. Компания обещает выплачивать фиксированный доход каждые полгода в размере 11% от начальной суммы инвестиций. Срок инвестирования - от 1 года.
- 2) Размещение на вкладе в банке «Стабильность» (процентная ставка - 18% годовых, начисление процентов в конце срока, возможно досрочное снятие без потери процентов за полный срок).
- 3) Формирование накоплений самостоятельно, без использования финансовых инструментов. В этом случае семья откладывает 3000 руб. в месяц.
- 4) Вложение в жилищно-строительный кооператив сестры, который предлагает выплату бонусов на размещенные средства каждые полгода в размере 15%. Минимальный срок вклада - 2 года без возможности досрочного вывода.

Алексей предложил родителям вариант, который позволил всей семье оплатить поездку без сокращения привычных расходов и с минимальными рисками.

Какой вариант позволил это сделать? Выберите один верный ответ.

Ответ: 2

Критерии оценки:

0 баллов	Указан неверный ответ
4 балла	Указан верный ответ

ЗАДАНИЕ 9

Ознакомьтесь с ситуацией.

Семья Жилиных хочет приобрести щенка лабрадора за 70 000 руб. Это не обязательное, но очень желанное приобретение, все члены семьи очень любят собак. На семейном совете сын Александр предложил каждому члену семьи отказаться от одной необязательной траты. Рассмотрите приведенный ниже перечень личных расходов семьи Жилиных:

Члены семьи Ахмедовых	Ежемесячные расходы	Статья расходов, руб.
Папа Владимир	Автозапчасти и расходники для автомобиля	2000
	Бензин для автомобиля	5000
	Оплата продуктов	16000
	Ежемесячная поездка на рыбалку с друзьями	6000
	Помощь родителям	10000
Мама Жанна	Платная подписка на стриминговый сервис	3000
	Утренний кофе в кафе	2000
	Лекарства	5000
	Покупка бытовой химии и средств гигиены	2000
Сын Александр	Оплата спортивной секции	4500
	Походы с друзьями в киберспорт клуб	3000
	Оплата компьютерной игры	2000
	Оплата репетитора по иностранному языку	4000
Дочь Анна	Доставка детокс-соков	2000
	Походы в кафе с друзьями	1000
	Покупка косметики	1500
	Йога онлайн	1000

Рассчитайте, через сколько месяцев Жилины смогут купить щенка, если каждый из членов семьи откажется только от одной необязательной, но самой большой по сумме траты.

Впишите число: _____ мес.

Ответ: 5

Критерии оценки:

0 баллов	Указан неверный ответ
6 баллов	Указан верный ответ

ЗАДАНИЕ 10

Ознакомьтесь с ситуацией.

Друзья восьмиклассники Элина, Иван и Марк решили начать свое дело – печь и продавать маффины со школьной символикой перед праздниками. Ребята составили бизнес-план, провели финансовые расчеты.

Рассмотрите представленные в левом столбце вопросы, которые встали перед ребятами при составлении бизнес-плана, соотнесите их с ответами, представленными справа.

Вопрос бизнес-плана	Ответ
1 Друзья подсчитали, что на закупку продуктов для одной партии из 20 маффинов им нужно 200 руб. Упаковка для одного маффина стоит 5 руб. Какова себестоимость одного маффина, руб.?	А) 5
2 Друзья планируют продавать маффины по 40 руб. за штуку. Сколько прибыли получают ребята с одной партии из 20 маффинов, если продадут все, руб.?	Б) 81
3 Марк предложил купить профессиональную формочку за 200 руб., которая позволит уменьшить расход теста и снизить стоимость продуктов на 40 руб. на партию. Сколько партий маффинов нужно сделать, чтобы окупить покупку этой формочки?	В) 500
4 Элина считает, что нужно откладывать 15% от прибыли на будущие расходы. Сколько рублей составят эти отчисления с продажи одной партии маффинов (после покупки формочки)?	Г) 15

Ответ:

1	2	3	4
Г	В	А	Б

Критерии оценки:

0 баллов	Указан неверный ответ
6 баллов	Указан верный ответ

ЗАДАНИЕ 11

Ознакомьтесь с ситуацией.

Старшая сестра Алексея досрочно закрыла кредит на покупку автомобиля. Вскоре ей пришел штраф за досрочное закрытие. В договоре данный пункт не был прописан, а информация была представлена только на сайте банка. Алексей понимал, что в отношении сестры нарушено право потребителя финансовых услуг – «право на полную информацию об услуге». В школе мальчик изучал алгоритм защиты прав потребителя. Он помнил, что надо делать, но забыл, в

какой последовательности следует совершать действия по отстаиванию своих прав. Помогите Алексею расставить шаги алгоритма защиты прав потребителя в нужной последовательности. Укажите правильную последовательность действий Алексея и его сестры при отстаивании прав потребителя.

Расположите действия Алексея в правильной последовательности

- 1) Отстаивать свои права в суде (самостоятельно или с помощью юристов).
- 2) Если ответ на письменную претензию отрицательный, обратиться за консультацией в одну из организаций, помогающих защищать права (Роспотребнадзор, Банк России, Финансовый уполномоченный и др.). Получить бесплатную консультацию.
- 3) С помощью консультантов организаций, помогающих защищать права потребителя составить исковое заявление в суд.
- 4) На сайте Роспотребнадзора найти шаблоны письменных претензий при нарушении прав потребителя.
- 5) Составить письменную претензию и передать ее в банк. Получить официальный ответ от организации.

Ответ: 4 5 2 3 1

Критерии оценки:

0 баллов	Указан неверный ответ
4 балла	Указан верный ответ

ЗАДАНИЕ 12

Ознакомьтесь с ситуацией.

У семьи Кононовых дома установлен цифровой счётчик электроэнергии. Ежемесячно семья использует 400 кВт·ч электроэнергии, из которых 250 кВт·ч приходится на дневное время, а 150 кВт·ч - на ночное. Дневной тариф оплаты за электроэнергию составляет 7 руб. за 1 кВт·ч, ночной тариф - 4 руб. за 1 кВт·ч.

Семья установила умную розетку, которая помогает экономить электроэнергию. Благодаря умной розетке удалось сократить потребление электроэнергии на 16% днём и на 25% ночью.

Время суток	Потребление электроэнергии, кВт ч	Тариф, руб.	Экономия после установки умной розетки, %
День	250	7	16
Ночь	150	4	25

Сколько рублей семья заплатит за электроэнергию за месяц после установки умной розеткой при сохранении такого же потребления?

Впишите число без пробелов: _____ руб.

Ответ: 1920

Критерии оценки:

0 баллов	Указан неверный ответ
6 баллов	Указан верный ответ

ЗАДАНИЕ 13

Ознакомьтесь с ситуацией.

Даша составила таблицу сервисов, которыми пользуется её семья. В таблице указано, к каким сервисам привязаны одинаковые шаблоны паролей и какой ежемесячный платёж по каждому сервису.

№	Сервис	Категория	Привязанный email	Шаблон пароля	Сумма на счёте, руб.
1	Онлайн-аптека	Здоровье	mom.care@mail.ru	X	1800
2	Служба доставки	Еда	family.meals@mail.ru	Y	5200
3	Такси	Путешествия	dad.drive@yandex.ru	Z	0
4	Видео-сервис	Развлечения	family.movies@yandex.ru	Y	1200

Сколько рублей потеряет семья, если пароль шаблона «Y» станет известен мошенникам?

Впишите число без пробелов: _____ руб.

Ответ: 6400

Критерии оценки:

0 баллов	Указан неверный ответ
5 баллов	Указан верный ответ

ЗАДАНИЕ 14

Ознакомьтесь с ситуацией.

Близнецы Валерия и Вероника Симановы, закончили 6 класс «на отлично» и обратились к родителям с просьбой купить им игровой ноутбуки. Родители ответили, что готовы приобрести ноутбук, но позже. В настоящий момент они не располагают достаточной суммой для их покупки и им пришлось бы воспользоваться займом или кредитом. Девочки слышали такие понятия, как «кредит», «рассрочка» и «микрозаём», но не до конца понимают их значение. Им важно разобраться, что можно использовать для покупки желаемого, а что может привести к большим долгам.

Рассмотрите представленные в левом столбце таблицы понятия, связанные с займами и кредитами, соотнесите их с жизненными ситуациями, представленными справа.

Понятие	Жизненная ситуация
1. Кредит	А) Покупка ноутбуков с возможностью оплаты их стоимости частями в течение оговоренного в договоре срока.
2. Процентная ставка	Б) Деньги, взятые в долг у бабушки и дедушки на покупку ноутбуков. Не предполагают уплаты процентов.
3. Рассрочка	В) Деньги, которые родители Валерии и Вероники взяли в долг у банка на конкретную цель на условиях возврата с уплатой процентов.

4. Микрозайм	Г) Стоимость кредита родителей Валерии и Вероники, выраженная в процентах годовых. Показывает, сколько они переплачивают банку за пользование деньгами.
5. Дружеский заём	Д) Денежный заём, который родители Валерии и Вероники могут взять на короткий срок в микрофинансовой организации, под высокие проценты, с большими рисками.

Ответ:

1	2	3	4	5
В	Г	А	Д	Б

Критерии оценки:

0 баллов	Указан неверный ответ
4 балла	Указан верный ответ

ЗАДАНИЕ 15

Ознакомьтесь с ситуацией.

Братья Максим и Даниил Кузнецовы попросили родителей купить им по годовой подписке на онлайн-образовательную платформу для подготовки к экзаменам (каждая подписка стоит 24 000 руб.).

Финансовые условия семьи Кузнецовых следующие:

- ежемесячный доход: 90 000 руб.;
- обязательные расходы (ЖКХ, питание, транспорт и др.): 65 000 руб.;
- накоплений нет;
- желательные расходы (на хобби и развлечения): 15 000 руб.;
- непредвиденные расходы: 10 000 руб.

Родители понимают важность дополнительного обучения для сыновей и решают накопить на подписки для них.

Какой из вариантов накопления будет наиболее разумным, учитывая, что все члены семьи готовы сократить желательные расходы не более чем на половину?

- 1) Откладывать три месяца по максимуму - по 20 000 руб. ежемесячно, чтобы накопить как можно быстрее.
- 2) Откладывать шесть месяцев комфортную сумму - по 8 000 руб. ежемесячно.
- 3) Не откладывать деньги целенаправленно, а в конце месяца копить то, что останется от свободных средств (примерно 5 000 руб. в среднем).
- 4) Взять деньги в долг у друзей, чтобы сразу купить подписки, а потом возвращать долг постепенно.

Выберите один верный ответ.

Ответ: 2

Критерии оценки:

0 баллов	Указан неверный ответ
6 баллов	Указан верный ответ

ЗАДАНИЕ 16

Ознакомьтесь с ситуацией.

Олег – ученик 7 класса. К началу учебного года ему нужно обновить свой гардероб. Список содержит следующие позиции: носки – 10 шт.; футболка – 4 шт.; рубашка – 2 шт.; штаны спортивные – 1 шт.; брюки – 1 шт.; майка – 6 шт.; кроссовки – 1 шт.; галстук – 1 шт.

Мама предложила Олегу сделать выбор самостоятельно, при этом попросила экономить. В магазине Олегу предложили следующие позиции:

№	Товар	Стоимость за ед., руб.
1	носки (1 пара)	200
2	комплект носков (5 шт.)	800
3	футболка (1 шт.)	500
4	комплект футболок (2 шт.)	900
5	комплект футболок (5 шт.)	2000
6	рубашка (1 шт.)	1500
7	комплект рубашек (2 шт.)	2500
8	штаны спортивные (1 шт.)	1500
9	брюки (1 шт.)	3000
10	майка (1 шт.)	400
11	комплект маек (3 шт.)	1000
12	кроссовки (1 пара)	3000
13	галстук	600

В магазине действуют две акции (скидки не суммируются):

- 1) Скидка 10% на итоговую сумму в чеке, превышающую 10000 руб.
- 2) Частичная оплата покупки бонусами (5% от итоговой суммы в чеке).

Выберите наиболее выгодный вариант покупки каждого канцелярского товара, определите какую акцию лучше применить и рассчитайте общую сумму покупки.

Впишите число без пробелов, отражающее итоговую сумму в рублях, которую заплатит Олег в магазине: _____ руб.

Ответ: 14400

Критерии оценки:

0 баллов	Указан неверный ответ
6 баллов	Указан верный ответ

ЗАДАНИЕ 17

Ознакомьтесь с ситуацией.

Бабушка Матвея не смогла расплатиться в магазине картой, из-за отсутствия Интернета не работало платежное устройство. Поэтому она подошла к ближайшему банкомату и хотела вставить в него свою карту, чтобы снять деньги. Матвею не понравился внешний вид банкомата: на клавиатуре и картоприемнике кустарно были установлены подозрительные устройства. Он предполагает, что это работа мошенников.

Как называется вид мошенничества, с которым столкнулись Матвей и его бабушка?

- 1) Вишинг
- 2) Фишинг

3) Финансовая пирамида

4) Скимминг

Выберите один верный ответ.

Ответ: 4

Критерии оценки:

0 баллов	Указан неверный ответ
4 балла	Указан верный ответ

ЗАДАНИЕ 18

Прочитайте текст.

Бильбо Бэггинс, главный герой повести Джона Рональда Руэла Толкина «Хоббит, или Туда и обратно», совершает путешествие к Одинокой горе и помогает гномам обрести Дом. При этом он меняет и их жизнь, и свою собственную. Выберите прилагательные, которые лучше всего характеризуют потребительское поведение Бильбо в конце повествования.

1. Импульсивное

2. Коллективистское

3. Рациональное

4. Эгоистичное

5. Эпатажное

Выберите два верных ответа

Ответ: 1 2

Критерии оценки:

0 баллов	Указан неверный ответ
6 баллов	Указан верный ответ

ЗАДАНИЕ 19

Укажите историческую последовательность появления перечисленных ниже денег:

1) медная копейка

2) ногата

3) биткоин

4) золотой империал

5) бумажный червонец

Ответ: 2 1 4 5 3

Критерии оценки:

0 баллов	Указан неверный ответ
7 баллов	Указан верный ответ

ЗАДАНИЕ 20

Ознакомьтесь с ситуацией.

Света учится в 6 классе и ходит в спортивную секцию по плаванию. Перед началом спортивного сезона ей необходим новый купальник, две шапочки для плавания и набор зажимов для носа (10 шт.). Мама дала Свете 11 000 руб. на покупку, разрешив сдачу оставить себе. Света сравнила предложения нескольких онлайн и офлайн магазинов, чтобы выбрать наиболее выгодное.

Рассмотрите представленные в левом столбце предложения разных магазинов, соотнесите их с итоговой стоимостью покупки.

Жизненная ситуация	Итоговая стоимость покупки
1. Онлайн-магазин «Все для плавания»: купальник - 8000 руб., шапочка для плавания – 1000 руб., зажимы для носа (5 шт.) - 1000 руб. Если оплатить онлайн, а не при получении, то будет скидка - 10%.	А) 10800 руб.
2. Офлайн магазин «Мир плавания»: купальник - 9000 руб., набор шапочек для плавания (2 шт.) - 1500 руб., набор зажимов (10 шт.) - 1500 руб. У Светы есть бонусная карта этого магазина с 1000 бонусных руб., которые можно списать, уменьшив общую стоимость покупки, которые можно использовать при оплате.	Б) 10100 руб.
3. Покупка товаров в магазине маркетплейса: купальник - 6000 руб., шапочка для плавания - 800 руб., зажимы для носа (2 шт.) - 400 руб. Доставка платная – 500 руб.	В) 10400 руб.
4. Заказ через тренера из оптового магазина: купальник - 10000 руб., шапочка для плавания - 500 руб., набор зажимов для носа (10 шт.) - 2000 руб. Тренер сможет сделать заказ на нескольких спортсменов и ему сделают скидку 20% от на всю покупку.	Г) 11000 руб.

Ответ:

1	2	3	4
А	Г	Б	В

Критерии оценки:

0 баллов	Указан неверный ответ
6 баллов	Указан верный ответ

**Федеральное государственное бюджетное образовательное учреждение высшего образования
Российская академия народного хозяйства и государственной службы при Президенте Российской Федерации**

**Олимпиада школьников РАНХиГС по Финансовой грамотности
2025 – 2026 учебный год
6 -7 класс
Отборочный этап**

Вариант 3

ЗАДАНИЕ 1

Ознакомьтесь с ситуацией.

Весной Ксении Воробьевой исполнилось 14 лет. С согласия родителей она устроилась на работу помощницей в библиотеку на время летних каникул. Это ее первая официальная работа.

Ксения (с согласия родителей) открыла виртуальную банковскую карту, на которую поступила первая заработная плата. В трудовом договоре была указана сумма 13 000 рублей до вычета налогов. Ксения расстроена – она получила меньше. Сколько рублей поступило на карту Ксении Воробьевой?

Впишите число без пробелов: _____ руб.

Ответ: 11310

Критерии оценки:

0 баллов	Указан неверный ответ
4 балла	Указан верный ответ

ЗАДАНИЕ 2

Ознакомьтесь с ситуацией.

Максим выбирает подарок на день рождения своего друга. В магазине спортивных товаров ему сделали выгодное предложение: купить набор из теннисной ракетки и мячей со скидкой 20%. На кассе он узнал, что можно сделать покупку еще более выгодной - получить дополнительную скидку 5%. Для этого надо пройти по QR-коду и мгновенно оплатить товар, не вводя полные банковские реквизиты магазина.

Как называется такой способ оплаты товаров?

- 1) Биометрия.
- 2) Наличный расчет.
- 3) Эквайрин.
- 4) СБП (система быстрых платежей).
- 5) Безналичный платеж в мобильном приложении банка.

Выберите один верный ответ

Ответ: 4

Критерии оценки:

0 баллов	Указан неверный ответ
5 баллов	Указан верный ответ

ЗАДАНИЕ 3

Ознакомьтесь с ситуацией.

У Рафаэля есть мечта - посетить Пекин. Он уже три года изучает китайский язык и хочет поучаствовать в конкурсе, где в качестве приза выступает поездка в столицу Китая. Одним из этапов конкурса будет собеседование с носителем языка. Рафаэль понимает, что это задание для него будет сложным и хочет пройти дополнительные краткосрочные онлайн курсы разговорного китайского языка. Цены на эту услугу сильно варьируются. Какими принципами должен руководствоваться мальчик, чтобы сделать грамотную покупку?

- 1) Соответствие содержания курсов заданиям конкурса.
- 2) Красота сайта, яркость материалов курсов.
- 3) Рейтинг курсов в независимых источниках (независимых рейтинга).
- 4) Спонтанность и импульсивность желания купить.
- 5) Мнение друзей об услуге.
- 6) Наличие скидки и/или иных бонусов.

Выберите несколько верных ответов

Ответ: 1 3 6

Критерии оценки:

0 баллов	Указан неверный ответ
4 балла	Указан верный ответ

ЗАДАНИЕ 4

Ознакомьтесь с ситуацией.

В семье Разумовых уже несколько месяцев ведется семейный бюджет. Папа вовлекает в его обсуждение и составление дочь Арину. В этот раз он написал все доходы и расходы семьи единым списком и попросил Марину найти необязательные расходы, так как по его предварительным расчетам бюджет получается дефицитным. А этого, по мнению папы, быть не должно.

Выделите четыре позиции, которые необходимо убрать Марине.

- 1) Прививки для морской свинки, которую купили 3 мес. назад
- 2) Процент по годовому вкладу
- 3) Премия папы
- 4) Ремонт автомобиля, на который папа использует для областных командировок
- 5) Третьи кроссовки для брата
- 6) Платеж по автокредиту
- 7) Набор новых однотонных кружек и чашек, взамен морально устаревших и потертых
- 8) Зарплата мамы

- 9) Базовые продукты питания
- 10) Лотерейные билеты
- 11) Налог на имущество физических лиц (квартира)
- 12) Жилищно-коммунальные услуги
- 13) Лекарства и витамины
- 14) Годовая подписка на “Необычные поздравления и праздники каждый день” в ТГ-канале “автомобилист” для папы

Ответ: 5 7 10 14





Критерии оценки:

0 баллов	Указан неверный ответ
4 балла	Указан верный ответ

ЗАДАНИЕ 5

Ознакомьтесь с ситуацией.

Семиклассник Рудольф стал победителем научно-практической конференции “Загадочный Восток”. Приз - поездка во Вьетнам на 10 дней. Все расходы на поездку оплачиваются организатором. Рудольф хочет взять с собой наличные деньги Вьетнама (донги) на покупку сувениров и разных мелочей. Однако, изучив информацию в интернете, Рудольф пришел к выводу, что нужно купить доллары США и уже во Вьетнаме обменять их на донге. Рудольф с папой отправился в банк «Звезда», где на табло была размещена следующая информация:

Валюта	Купить	Продать
 1 AED Дирхам ОАЭ	▲ 23,51 ₽	▲ 22,21 ₽
 1 CNY Китайский юань	▲ 11,81 ₽	▲ 11,46 ₽
 100 KZT Казахстанский тенге	16,01 ₽	14,88 ₽
 1 USD Доллар США	▲ 85,00 ₽	▲ 79,10 ₽

Какую сумму в долларах получит папа Ивана, если он купит долларов из расчета по 1700 руб. на один день поездки?

Впишите целое число без пробелов, которое у вас получилось.

Ответ: 200

Критерии оценки:

0 баллов	Указан неверный ответ
5 баллов	Указан верный ответ

ЗАДАНИЕ 6

Ознакомьтесь с ситуацией.

Василиса оформила виртуальную банковскую карту для оплаты доступа к онлайн-курсам. Через несколько дней на электронную почту, указанную при регистрации, пришло письмо от службы поддержки образовательной платформы. В письме сообщалось, что с аккаунта была замечена подозрительная активность, и для защиты аккаунта и привязанной карты нужно срочно перейти по ссылке и подтвердить данные карты: номер, срок действия, CVC-код и имя владельца.

Какие действия Василисы будут грамотными в данной ситуации?

- 1) Немедленно перейти по ссылке из письма и ввести данные карты, чтобы обезопасить свои деньги.
- 2) Не переходить по ссылке в письме и ни в коем случае не вводить данные своей банковской карты.
- 3) Зайти на официальный сайт образовательной платформы и через него обратиться в службу поддержки, чтобы уточнить о факте подозрительной активности в отношении аккаунта.
- 4) Сразу позвонить в банк, который выпустил его карту, по официальному номеру с обратной стороны карты, сообщить о возможной мошеннической попытке и, при необходимости, заблокировать карту для перевыпуска.
- 5) Удалить письмо, ничего не предпринимая, так как, скорее всего это шутка.
- 6) Связаться с родителями, показать им это письмо и попросить помощи и совета.

Выберите несколько верных ответов.

Ответ: 2 3 4 6

Критерии оценки:

0 баллов	Указан неверный ответ
4 балла	Указан верный ответ

ЗАДАНИЕ 7

Ознакомьтесь с ситуацией.

На уроке по финансовой грамотности Семен и Миша узнали о функциях денег. Им предстояло придумать задание по этой теме для своих одноклассников. Помогите им выполнить задание Семена и Миши.

Рассмотрите представленные в левом столбце таблицы жизненные ситуации, соотнесите их с функциями денег в правом столбце.

Жизненная ситуация	Функция денег
1. Миша коллекционирует фигурки героев аниме. Чтобы не переплачивать, она всегда сравнивает цены в нескольких онлайн и офлайн магазинах.	А) Деньги как универсальное средство платежа.
2. Мише нравится рюкзак Семена. А Семен хотел бы бомбер Миши. Бомбер стоил на 1500 руб. дороже Поэтому Семен доплатил Мише недостающую сумму.	Б) Деньги как мера для определения стоимости.
3. Семен мечтает о новом велосипеде. С января по май он откладывает по 1800 руб. ежемесячно.	В) Деньги как средство обмена.

4. Семен помогает маме с покупкой товаров (продуктов и бытовой химии). Несколько раз в месяц он ходит в магазин и покупает за наличные деньги всё необходимое.	Г) Деньги как средство накопления.
--	------------------------------------

Ответ:

1	2	3	4
Б	В	Г	А

Критерии оценки:

0 баллов	Указан неверный ответ
4 балла	Указан верный ответ

ЗАДАНИЕ 8

В начале 2025 года семья Анны решила, что осенние каникулы проведут в г. Калининграде. Предварительная стоимость путёвки на троих - 268000 руб. В бюджете на отдых уже отложено 240000 руб. Анна понимает, что семье не хватает денег для полной оплаты отдыха, и нужно накопить оставшуюся сумму за 9 месяцев. Анна рассмотрела несколько вариантов:

- 1) Инвестирование средств в компанию, занимающуюся продажей экотоваров. Компания обещает выплачивать фиксированный доход каждые полгода в размере 12% от начальной суммы инвестиций. Срок инвестирования - от 1 года.
- 2) Размещение на вкладе в банке «Финанс-сити» (процентная ставка — 16% годовых, начисление процентов в конце срока, возможно досрочное снятие без потери процентов за полный срок).
- 3) Формирование накоплений самостоятельно, без использования финансовых инструментов. В этом случае семья откладывает 2000 руб. в месяц.
- 4) Вложение в кредитный потребительский кооператив подруги, который предлагает выплату бонусов на размещённые средства каждые полгода в размере 18%. Минимальный срок вклада — 2 года без возможности досрочного вывода.

Анна предложила родителям вариант, который позволил всей семье купить путевку без сокращения привычных расходов и с минимальными рисками.

Какой вариант позволил это сделать? Выберите один верный ответ.

Ответ: 2

Критерии оценки:

0 баллов	Указан неверный ответ
4 балла	Указан верный ответ

ЗАДАНИЕ 9

Ознакомьтесь с ситуацией.

Семья Закировых хочет приобрести на дачу гриль-мангал за 48 000 руб. Это не обязательное, но желаемое приобретение, так как все члены семьи любят готовить на открытом огне. На

семейном совете сын Тимур предложил каждому члену семьи отказаться от одной **необязательной** траты.

Рассмотрите приведенный ниже перечень личных расходов семьи Закировых:

Члены семьи Ахмедовых	Ежемесячные расходы	Статья расходов, руб.
Папа Амир	Ежемесячные взносы по кредиту	5000
	Оплата продуктов	4000
	Оплата счетов за услуги	3000
	Ежемесячное посещение с коллегами ресторана	5000
	Покупка необходимой одежды	4000
Мама Ясмينا	Посещение косметолога (наращивание ресниц)	3000
	Помощь родителям	4000
	Лекарства	2500
	Покупка косметики	1500
Сын Тимур	Доставка готовой еды	2000
	Походы с друзьями в клуб виртуальной реальности	3000
	Оплата компьютерной игры	1000
	Оплата спортивной секции по волейболу	2500
Дочь Ева	Покупка приятных мелочей	1000
	Походы в пиццерию с друзьями	800
	Покупка канцелярских товаров для школы	500
	Оплата занятий в музыкальной школе	1500

Рассчитайте, через сколько месяцев Закировы смогут купить гриль-мангал, если каждый из членов семьи откажется только от одной **необязательной**, но самой большой по сумме траты.

Впишите число: _____ мес.

Ответ: 4

Критерии оценки:

0 баллов	Указан неверный ответ
6 баллов	Указан верный ответ

ЗАДАНИЕ 10

Ознакомьтесь с ситуацией.

Три подруги Алина, Марина и Софья учатся в 8 классе школы города Владимир. Они решили начать свое дело – выпекать и продавать коржики со школьной символикой перед праздниками. Девочки составили бизнес-план, провели финансовые расчёты и подготовились к запуску своей инициативы.

Рассмотрите представленные в левом столбце вопросы, которые встали перед ребятами при составлении бизнес-плана, соотнесите их с ответами, представленными справа.

Вопрос бизнес-плана	Ответ
1 Друзья подсчитали, что на закупку продуктов для одной партии из 20 коржиков им нужно 200 руб. Упаковка для одного коржика стоит 5 руб.. Какова себестоимость одного коржика, руб.?	А) 5
2 Девочки планируют продавать коржики по 40 руб. за штуку. Сколько прибыли получают друзья с одной партии из 20 коржиков, если продадут все, руб.?	Б) 81
3 Марина предложила купить профессиональную формочку за 200 руб., которая позволит уменьшить расход теста и снизить стоимость продуктов на 40 руб. на партию. Сколько партий коржиков нужно сделать, чтобы окупить покупку этой формочки?	В) 500
4 Алина считает, что нужно откладывать 15% от прибыли на будущие расходы. Сколько руб. составят эти отчисления с продажи одной партии коржиков (после покупки формочки)?	Г) 15

Ответ:

1	2	3	4
Г	В	А	Б

Критерии оценки:

0 баллов	Указан неверный ответ
6 баллов	Указан верный ответ

ЗАДАНИЕ 11

Ознакомьтесь с ситуацией.

Родителям Арины отказались вовремя выдать деньги при закрытии вклада в банка, обосновав это техническими проблемами. Из-за этого у них возникли проблемы, и они решили отстаивать свои права. Арина понимала, что было нарушено право потребителя финансовых услуг – «право на получение услуги качественно и в срок». В школе девочка изучала алгоритм защиты прав потребителя. Она помнила, что надо делать, но забыла, в какой последовательности следует совершать действия по отстаиванию своих прав. Помогите Арине расставить шаги алгоритма защиты прав потребителя в нужной последовательности.

Укажите правильную последовательность действий Арины и ее родителей при отстаивании прав потребителя.

Расположите действия Арины в правильной последовательности

- 1) С помощью консультантов организаций, помогающих защищать права потребителя составить исковое заявление в суд.
- 2) Если ответ на письменную претензию отрицательный, обратиться за консультацией в одну из организаций, помогающих защищать права (Роспотребнадзор, Банк России, Финансовый уполномоченный и др.). Получить бесплатную консультацию.
- 3) На сайте Роспотребнадзора найти шаблоны письменных претензий при нарушении прав потребителя.
- 4) Отстаивать свои права в суде (самостоятельно или с помощью юристов).
- 5) Составить письменную претензию и передать ее в банк. Получить официальный ответ от организации.

Ответ: 3 5 2 1 4

Критерии оценки:

0 баллов	Указан неверный ответ
4 балла	Указан верный ответ

ЗАДАНИЕ 12**Ознакомьтесь с ситуацией.**

В семье Петровых дома установлен цифровой счётчик электроэнергии. Ежемесячно семья потребляет 420 кВт·ч электроэнергии, из которых 270 кВт·ч используются в дневное время, а 150 кВт·ч - в ночное. Дневной тариф за электроэнергию составляет 6 руб. за 1 кВт·ч, ночной тариф - 4 руб. за 1 кВт·ч.

Семья установила умную розетку, которая помогает экономить электроэнергию. Благодаря умной розетке удалось сократить потребление электроэнергии на 15% днём и на 25% ночью.

Время суток	Потребление электроэнергии, кВт·ч	Тариф, руб.	Экономия после установки умной розетки, %
День	270	6	15
Ночь	150	4	25

Сколько рублей семья заплатит за электроэнергию за месяц после установки умной розеткой при сохранении такого же потребления?

Впишите число без пробелов: _____ руб.

Ответ: 1827

Критерии оценки:

0 баллов	Указан неверный ответ
6 баллов	Указан верный ответ

ЗАДАНИЕ 13**Ознакомьтесь с ситуацией.**

Лена составила таблицу сервисов, которыми пользуется её семья. В таблице указано, к каким сервисам привязаны одинаковые шаблоны паролей и какой ежемесячный платёж по каждому сервису.

№	Сервис	Категория	Привязанный email	Шаблон пароля	Сумма на счёте, руб.
1	Аптека онлайн	Здоровье	mom.healthcare@mail.ru	M	2100
2	Служба доставки	Питание	family.dinner@mail.ru	N	4600
3	Такси	Транспорт	dad.cars@yandex.ru	P	0
4	Видео-сервис	Развлечения	family.watch@yandex.ru	N	1400

Сколько рублей потеряет семья, если пароль шаблона «N» станет известен мошенникам?
Впишите число без пробелов: _____ руб.

Ответ: 6000

Критерии оценки:

0 баллов	Указан неверный ответ
5 баллов	Указан верный ответ

ЗАДАНИЕ 14

Ознакомьтесь с ситуацией.

Братья близнецы Михаил и Даниил Зубковы, закончили 7 класс «на отлично» и обратились к родителям с просьбой купить им электросамокаты. Родители ответили, что готовы приобрести электросамокаты, но, позже. В настоящий момент они не располагают достаточной суммой для их покупки и им пришлось бы воспользоваться займом или кредитом. Ребята слышали такие понятия, как «кредит», «рассрочка» и «микрозайм», но не до конца понимают их. Им важно разобраться, что можно использовать для покупки желаемого, а что может привести к большим долгам.

Рассмотрите представленные в левом столбце таблицы понятия, связанные с займами и кредитами, соотнесите их с жизненными ситуациями, представленными справа.

Понятие	Жизненная ситуация
1. Кредит	А) Покупка электросамокатов с возможностью оплаты их стоимости частями в течение оговоренного в договоре срока.
2. Процентная ставка	Б) Деньги, взятые в долг у бабушки и дедушки на покупку электросамокатов. Не предполагают уплаты процентов.
3. Рассрочка	В) Деньги, которые родители Михаила и Даниила взяли в долг у банка на конкретную цель на условиях возврата с уплатой процентов.
4. Микрозайм	Г) Стоимость кредита родителей Михаила и Даниила, выраженная в процентах годовых. Показывает, сколько они переплачивают банку за пользование деньгами.
5. Дружеский заём	Д) Денежный заём, который родители Михаила и Даниила могут взять на короткий срок в микрофинансовой организации, под высокие проценты, с большими рисками.

Ответ:

1	2	3	4	5
В	Г	А	Д	Б

Критерии оценки:

0 баллов	Указан неверный ответ
4 балла	Указан верный ответ

ЗАДАНИЕ 15

Ознакомьтесь с ситуацией.

Сёстры Мила и Амалия Кузнецовы попросили родителей купить им по годовой подписке на онлайн-школу иностранных языков (каждая подписка стоит 28 000 руб.).

Финансовые условия семьи Кузнецовых следующие:

- ежемесячный доход: 120 000 руб.;
- обязательные расходы (ЖКХ, питание, транспорт и др.): 75 000 руб.;
- накоплений нет;
- желательные расходы (на хобби и развлечения): 25 000 руб.
- непредвиденные расходы: 10 000 руб.

Родители понимают важность дополнительного образования для дочерей и решают накопить на подписки для них.

Какой из вариантов накопления будет наиболее разумным, учитывая, что все члены семьи готовы сократить желательные расходы не более чем на половину?

- 1) Откладывать три месяца по максимуму — по 25 000 руб. ежемесячно, чтобы накопить как можно быстрее.
- 2) Откладывать шесть месяцев комфортную сумму — по 12 000 руб. ежемесячно.
- 3) Не откладывать деньги целенаправленно, а в конце месяца копить то, что останется от свободных средств (примерно 6 000 руб. в среднем).
- 4) Взять деньги в долг у знакомых, чтобы сразу купить подписки, а потом постепенно отдавать долг.

Выберите один верный ответ.

Ответ: 2

Критерии оценки:

0 баллов	Указан неверный ответ
6 баллов	Указан верный ответ

ЗАДАНИЕ 16

Ознакомьтесь с ситуацией.

Алена – ученица 6 класса составила список подарков для близких и друзей на Новый год. Список содержит следующие позиции: шоколадки – 10 шт.; наборы канцелярских товаров – 2 шт.; скетчбуки – 5 шт.; елочные шары – 6 шт.; новогодние статуэтки – 2 шт.; коробка с конфетами – 4 шт.; набор цветных карандашей – 1 шт.; духи – 1 шт.

Бюджет на подарки у Алены ограничен, ей надо постараться максимально сэкономить деньги. В магазине Алене предложили следующие позиции:

№	Товар	Стоимость за ед., руб.
1	шоколадка (1 шт.)	200
2	набор шоколадок (5 шт.)	750
3	набор канцелярских товаров в упаковке (1 шт.)	500
4	канцелярские товары, собранные и упакованные самостоятельно (1 набор)	400
5	скетчбук	600
6	елочный шар (1 шт.)	300
7	набор елочных шаров (6 шт.)	1600
8	набор елочных шаров (2 шт.)	500

9	новогодняя статуэтка	800
10	комплект две коробки с конфетами	1000
11	коробка с конфетами	600
12	набор цветных карандашей	400
13	духи	1200

В магазине действуют две акции (скидки не суммируются):

- 1) Скидка 15% на итоговую сумму в чеке, превышающую 5000 руб.
- 2) Частичная оплата покупки бонусами (5% от итоговой суммы в чеке).

Выберите наиболее выгодный вариант покупки каждого канцелярского товара, определите какую акцию лучше применить и рассчитайте общую сумму покупки.

Впишите число без пробелов, отражающее итоговую сумму в рублях, которую заплатит Алена в магазине: _____ руб.

Ответ: 10200

Критерии оценки:

0 баллов	Указан неверный ответ
6 баллов	Указан верный ответ

ЗАДАНИЕ 17

Ознакомьтесь с ситуацией.

Старшая сестра Ольги хочет накопить на покупку квартиры. Подруга посоветовала ей инвестиционную компанию, которая гарантирует по вкладам не менее 50% годовых. Кроме того, компания предлагает выгодную акцию: если привести в компанию друга, то помимо процента по инвестиционному вкладу, фирма выплатит еще 5% от суммы вклада друга. Ольга отговаривает свою сестру, уверяя, что это мошенническая схема.

Как называется вид мошенничества, с которым столкнулась сестра Ольги?

- 1) Вишинг
- 2) Фишинг
- 3) Финансовая пирамида
- 4) Скимминг

Выберите один верный ответ.

Ответ: 3

Критерии оценки:

0 баллов	Указан неверный ответ
4 балла	Указан верный ответ

ЗАДАНИЕ 18

Прочитайте текст.

Бильбо Бэггинс, главный герой повести Джона Рональда Руэла Толкина «Хоббит, или Туда и обратно» совершает путешествие к Одинокой горе и помогает гномам обрести Дом. При этом он меняет и их жизнь, и свою собственную.

Выберите утверждения, описывающие эволюцию потребительского поведения Бильбо.

1. Он был импульсивным, а стал рациональным
2. Он был рациональным, а стал импульсивным
3. Он был коллективистом, а стал индивидуалистом
4. Он был индивидуалистом, а стал коллективистом

Выберите два верных ответа.

Ответ: 2 4

Критерии оценки:

0 баллов	Указан неверный ответ
6 баллов	Указан верный ответ

ЗАДАНИЕ 19

Укажите историческую последовательность появления перечисленных ниже денег:

- 1) медная копейка
- 2) гривна кун
- 3) цифровой юань
- 4) золотой империал
- 5) бумажный червонец

Ответ: 2 1 4 5 3

Критерии оценки:

0 баллов	Указан неверный ответ
7 баллов	Указан верный ответ

ЗАДАНИЕ 20

Ознакомьтесь с ситуацией.

Демид учится в 6 классе и ходит в секцию по брейк дансу. Перед началом спортивного сезона ему необходимы новые кроссовки и набор защиты (наколенники, налокотники и напульсники). Родители дали Демиду 8 000 руб. на покупку, разрешив сдачу оставить себе. Демид сравнил предложения нескольких онлайн и офлайн магазинов, чтобы выбрать наиболее выгодное.

Рассмотрите представленные в левом столбце предложения разных магазинов, соотнесите их с итоговой стоимостью покупки.

Жизненная ситуация	Итоговая стоимость покупки
1. Онлайн-магазин «СпорМир»: комплект защиты (наколенники, налокотники и напульсники) - 4500 руб., кроссовки – 3500 руб. Если оплатить онлайн, а не при получении, то будет скидка - 12%.	А) 7000 руб.
2. Офлайн магазин «ПрофиСпорт»: кроссовки – 4000 руб.; наколенники – 1600 руб., налокотники – 1200 руб., напульсники - 700 руб. У Демида есть бонусная карта этого магазина с 500 бонусных руб., которые можно списать, уменьшив общую стоимость покупки, которые можно использовать при оплате.	Б) 7040 руб.
3. Покупка товаров в магазине маркетплейса: набор защиты (наколенники и налокотники) - 2000 руб., напульсники - 1000 руб., кроссовки 3800 руб. Доставка платная – 600 руб.	В) 7200 руб.
4. Заказ через тренера из оптового магазина: кроссовки - 5000 руб., наколенники - 2000 руб., налокотники - 1500 руб., напульсники - 500 руб. Тренер сможет сделать заказ на нескольких спортсменов и ему сделают скидку 20% от на всю покупку.	Г) 7400 руб.

Ответ:

1	2	3	4
Б	А	Г	В

Критерии оценки:

0 баллов	Указан неверный ответ
6 баллов	Указан верный ответ